

Всероссийская олимпиада школьников по географии  
Алтайский край  
Муниципальный этап, 2019-2020 г.г.

СВЕДЕНИЕ ОБ УЧАСТНИКЕ ОЛИМПИАДЫ

9 класс

Общее время для выполнения заданий муниципального этапа Олимпиады составляет около 3 астрономических часа.  
Сумма баллов за все правильные ответы теоретического раунда – 50 баллов.  
Сумма баллов за все правильные ответы тестового раунда – 20 баллов.  
Общая сумма баллов за 2 раунда – 70 баллов.  
Использование любых справочных материалов и карт не допускается.  
Для ответов на вопросы по карте можно пользоваться линейкой, транспортиром, простым калькулятором.  
Ответы на вопросы теоретического и тестового раундов записываются на листах для ответа и сдаются дежурному по аудитории.

ФАМИЛИЯ	ЕРЕМКИН
ИМЯ	ЗАХАР
ОТЧЕСТВО	СЕРГЕЕВИЧ
КЛАСС	9 класс
ШКОЛА	МБОУ "Лицей "Бригантина"
КРАЙ, РАЙОН, ГОРОД / ПОСЕЛОК /СЕЛО	Алтайский край, г. Заринск

ФИО ЧЛЕНОВ ЖЮРИ:

Саводемова Л.В. Вит  
Мочалова Н.А. Вит  
Тютчева Е.А. - Вит  
Бригантина В.И. Вит

ТЕОРЕТИЧЕСКИЙ РАУНД 235

ТЕСТОВЫЙ РАУНД 135

ОБЩЕЕ КОЛИЧЕСТВО БАЛЛОВ 365

$$\text{Всего} = 1 + 8 + 10 + 4 + 13 = 36$$

9-5

# ТЕОРЕТИЧЕСКИЙ РАУНД 9 КЛАСС

Задача 1. Прочитайте известное стихотворение В.В. Маяковского. Заполните таблицу, ответив на следующие вопросы.

«По небу тучи бегают,  
 Дождями сумрак сжат,  
 под старую телегою  
 рабочие лежат.  
 И слышит шепот гордый  
 вода и под и над:  
 "Через четыре года  
 здесь будет город-сад!"  
 Темно свинцовоночие,  
 и дождик толст, как жгут,  
 сидят в грязи рабочие,  
 сидят, лучину жгут.  
 Сливает губы с холода,  
 но губы шепчут в лад:  
 "Через четыре года  
 здесь будет город-сад!" ...  
 Здесь встанут стройки стенами.  
 Гудками, пар, сипи.  
 Мы в сотню солнц мартенами


Воспламеним Сибирь». (1929 г.)

Вопрос	Ответ
Какому городу нашей страны оно посвящено?	Новосибирск 0
Какие события описываются в нём?	Строительство Ново-сибирский. 0
Какое название он имел до 1931 года?	Сибирский острог 0
Какое название он имел в 1932-1961 гг.?	0
Каковы главные отрасли промышленности города?	1. Машиностроение 2. Машиностроение 3. Машиностроение 4. Машиностроение 5. Машиностроение 6. 0

9

9-5

Задача 2. Внимательно рассмотрите фотографию. Заполните таблицу, ответив на вопросы.



Вопрос	Ответ
Какой мост изображён на фотографии?	Керченский мост 0
Какие природные трудности необходимо было решать при строительстве этого сооружения? (укажите четыре трудности)	1. Третья мировая война 2 2. Экстремная 2 3. Возмозжные разрывы 2 4. Зубы, тит, дна, дача. 2

88

Задача 3. Из предложенного списка укажите 10 городов (отметьте плюсом), через которые проходит Транссибирская магистраль.

Список городов	Города Сибири и Дальнего Востока, через которые проходит Транссибирская магистраль
Абакан	
Барнаул	
Бийск	
Владивосток	+ 1
Иркутск	+ 1
Кемерово	
Комсомольск-на-Амуре	+ -
Красноярск	+ 1
Кызыл	
Новокузнецк	
Новосибирск	+ 1
Омск	+ 1
Тайшет	+ 1
Тобольск	
Томск	
Тюмень	+ 1
Улан-Удэ	+ 1
Усть-Кут	
Хабаровск	+ 1
Чита	+ 1

108.

15+4+13.



Задача 4. На картосхеме Алтайского края цифрами обозначены 4 муниципальных района. Изучите отдельные факты по каждому району и заполните таблицу.



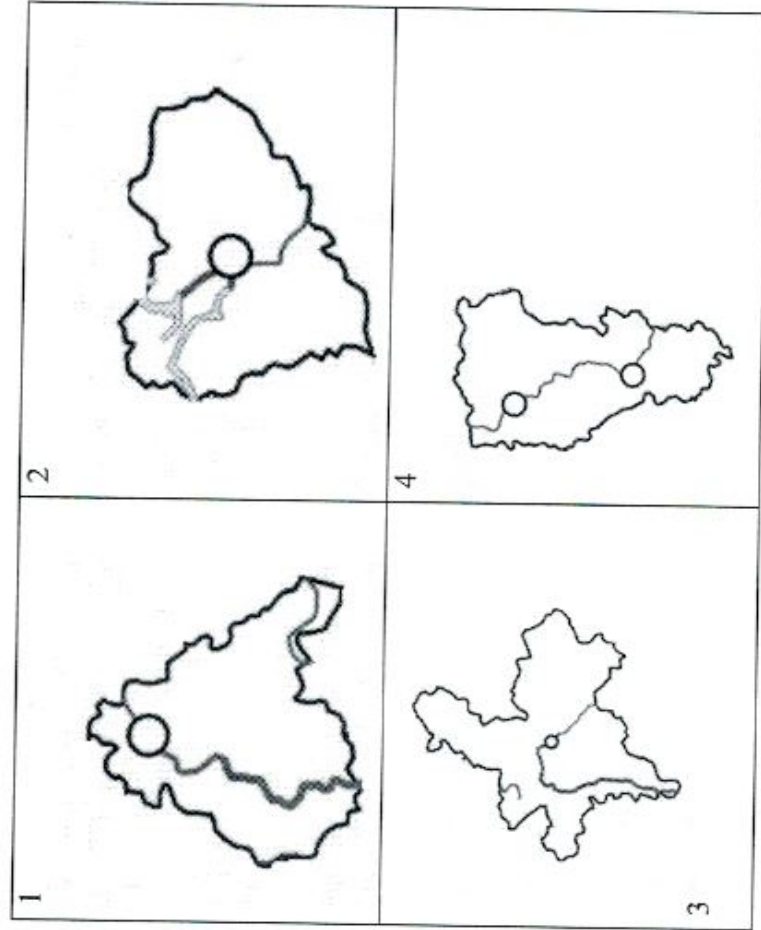
Отдельные факты по району	Название	Административный центр	Цифра	Доминирующая площадь (по природной зоне)	Главная водная артерия (если такая имеется)
Ранее данный район назывался сначала Чумышским, а потом Сорokinским	Заринский район	Заринск	1	Тайга	п. Чулыш
В административном центре района расположен мемориальный музей В.С.Золотухина	0	0	3	0	0
На территории района находится железная дорога на линии Турксиба	0	0	2	0	0
На территории этого района расположено более 20 озер	Курью-Сухово-Руднянский район	Курью-Сухово-Руднянский	4	степь	0,5

$$2+2=4$$

9-5

Задача 5. Внимательно рассмотрите рисунки и заполните таблицу, ответив на следующие задания.

Назовите 4 субъекта РФ, а также укажите их принадлежность к федеральным округам, экономическим районам. После этого напишите название главной водной артерии, протекающей по территории каждого субъекта РФ. Укажите основную промышленность (или комплекс отраслей), характерную для каждого субъекта.



Но мер	Название субъекта РФ	Название федерально го округа	Название экономиче ского района	Главная водная артерия	Основная промышленность (или комплекс отраслей) (укажите два любых варианта из общего списка)
1					
2					
3					
4					

0




ТЕСТОВЫЙ РАУНД 9 КЛАСС


Вопрос	Ответ
<p>1. В южной части этого природного комплекса России наблюдаются следующие явления.  <i>Недостаточное и неустойчивое увлажнение. Коэффициент увлажнения меньше единицы. Испарение лимитируется количеством осадков. Наблюдаются засухи и пыльные бури из-за арктических воздушных масс и тёплого сухого воздуха Средней Азии. Реки маловодны. Питание рек преимущественно – снеговое.</i>          А) Восточно-Европейская равнина          Б) Урал          В) Западная Сибирь          Г) Восточная Сибирь</p>	<p>Б</p>
<p>2. О какой физико-географической области идёт речь в следующем описании?  <i>Эта область располагается к северу от горы Юрма (высота – 1002 м). Горы образуют дугу. Находится исток реки Чусовой. К западу от области расположена знаменитая Кунгурская ледяная пещера.</i>          А) Полярный Урал          Б) Северный Урал          В) Средний Урал          Г) Южный Урал</p>	<p>В</p>
<p>3. По данному описанию определите название физико-географической области в пределах территории России.  <i>Эта область располагается в арктическом поясе. У побережья находятся фьорды. У берегов много айсбергов. Характерно современное оледенение (45 % площади). По побережьям распространены «птичьи базары».</i>          А) Земля Франца Иосифа</p>	<p>Б</p>

<p>Б) Северная Земля          В) остров Врангеля          Г) Новосибирские острова</p>	
<p>4. О каком озере идёт речь в следующем описании?  <i>Располагается на территории Карелии. Котловина ледниково-тектонического происхождения. Много заливов (зуб). Много островов. Впадает много рек, но вытекает только одна. Замерзает в ноябре. Много промысловых видов рыбы.</i>          А) Онежское озеро          Б) Ладожское озеро          В) Выгозеро          Г) Сегозеро</p>	<p>А</p>
<p>5. Какой вклад в историю исследований и освоения территории России внёс российский государственный деятель, изображённый на купюре достоинством 5000 рублей образца 1997 года? Его имя связано с:</p>	<p>А</p>
	<p>А) расширением российских владений в Восточной Сибири в XVIII-XIX веках          Б) хозяйственным освоением Аляски в начале XIX века          В) развитием горнозаводского дела на Урале          Г) первым русским кругосветным плаванием 1803-1806 гг.</p>

Г) Москва и Санкт-Петербург	
<p>14. Выберите группу регионов, где самые высокие средние зарплаты в России на душу населения:</p> <p>А) Ленинградская область и Республика Карелия          Б) Новосибирская область и Красноярский край          В) Иркутская область и Свердловская область          Г) Сахалинская область и Мурманская область</p>	78
<p>15. Выберите правильный вариант ответа. Какие три региона России лидируют по производству риса?</p> <p>А) Приморский край, Краснодарский край, Вологодская область          Б) Ростовская область, Республика Татарстан, Республика Чувашия          В) Краснодарский край, Ростовская область, Республика Адыгея          Г) Республика Дагестан, Приморский край, Республика Калмыкия</p>	70
<p>16. Выберите правильный вариант ответа. Какие три региона России лидируют по производству сахарной свёклы?</p> <p>А) Курская область, Воронежская область, Краснодарский край          Б) Воронежская область, Липецкая область, Республика Хакасия          В) Краснодарский край, Челябинская область, Республика Адыгея          Г) Республика Дагестан, Алтайский край, Республика Калмыкия</p>	А1
<p>17. Какое из утверждений «Промышленное предприятие (компания) – Центр – Вид продукции» является верным?</p> <p>А) «Северсталь» - Череповец – удобрения          Б) «Металлоинвест» - Томск – чугун          В) «Татнефть» - Уфа – нефть          Г) «РУСАЛ» - Ачинск – глинозем</p>	50

<p>18. Выберите правильный вариант ответа. В этих регионах бюджет существенную часть доходов получает от развитой рыбной отрасли:</p> <p>А) Иркутская область и Ульяновская область          Б) Архангельская область и Приморский край          В) Омская область и Ханты-Мансийский автономный округ          Г) Краснодарский край и Саратовская область</p>	51
<p>19. Назовите из списка один регион Российской Федерации, где в структуре доходов бюджета меньше всего получают от туристской отрасли:</p> <p>А) Кемеровская область          Б) Краснодарский край          В) Ставропольский край          Г) Алтайский край</p>	А1
<p>20. Установите соответствие между муниципальным районом Алтайского края и цифрой, которой он изображен на картосхеме. Запишите в ответ цифры, расположив их в порядке, соответствующем буквам.</p> 	



6. Какой из регионов РФ не является приграничным? А) Адыгея Б) Новосибирская область В) Воронежская область Г) Курганская область	Б 0										
7. Герб какой республики России изображён на фото?  А) Тыва Б) Бурятия В) Ингушетия Г) Башкортостан	Б 1										
8. Назовите субъект Российской Федерации, в котором располагается только один город: А) Республика Тыва Б) Республика Алтай В) Республика Хакасия Г) Республика Калмыкия	Б 1										
9. Установите соответствие между субъектом Российской Федерации и годом его образования (или последнего преобразования). Запишите в ответ буквы, расположив их в порядке, соответствующем цифрам.	БАГВ 1										
<table border="1"> <thead> <tr> <th>Субъект Российской Федерации</th><th>Год образования (преобразования) субъекта</th></tr> </thead> <tbody> <tr> <td>1) Пермский край</td><td>А) 2008</td></tr> <tr> <td>2) Забайкальский край</td><td>Б) 2005</td></tr> <tr> <td>3) Республика Крым в составе РФ</td><td>В) 2007</td></tr> <tr> <td>4) Камчатский край</td><td>Г) 2014</td></tr> </tbody> </table>	Субъект Российской Федерации	Год образования (преобразования) субъекта	1) Пермский край	А) 2008	2) Забайкальский край	Б) 2005	3) Республика Крым в составе РФ	В) 2007	4) Камчатский край	Г) 2014	БАГВ 1
Субъект Российской Федерации	Год образования (преобразования) субъекта										
1) Пермский край	А) 2008										
2) Забайкальский край	Б) 2005										
3) Республика Крым в составе РФ	В) 2007										
4) Камчатский край	Г) 2014										
10. Выберите один вариант ответа. В этих регионах Российской Федерации самая низкая плотность											

населения. А) Алтайский край и Ярославская область Б) Томская область и Иркутская область В) Смоленская область и Свердловская область Г) Новгородская область и Костромская область	Б 1 1										
11. Установите соответствие между коренными малочисленными народами и субъектом Российской Федерации, на территории которого они проживают. Запишите в ответ буквы, расположив их в порядке, соответствующем цифрам.	ВАГБ 1										
<table border="1"> <thead> <tr> <th>Коренные малочисленные народы</th><th>Субъект Российской Федерации</th></tr> </thead> <tbody> <tr> <td>1) ительмены</td><td>А) Республика Карелия</td></tr> <tr> <td>2) саамы</td><td>Б) Алтайский край, Республика Алтай, Кемеровская область</td></tr> <tr> <td>3) ижоры</td><td>В) Камчатский край</td></tr> <tr> <td>4) кумандинцы</td><td>Г) Ленинградская область</td></tr> </tbody> </table>	Коренные малочисленные народы	Субъект Российской Федерации	1) ительмены	А) Республика Карелия	2) саамы	Б) Алтайский край, Республика Алтай, Кемеровская область	3) ижоры	В) Камчатский край	4) кумандинцы	Г) Ленинградская область	
Коренные малочисленные народы	Субъект Российской Федерации										
1) ительмены	А) Республика Карелия										
2) саамы	Б) Алтайский край, Республика Алтай, Кемеровская область										
3) ижоры	В) Камчатский край										
4) кумандинцы	Г) Ленинградская область										
12. Установите соответствие между городом и субъектом Российской Федерации, в котором он расположен. Запишите в ответ буквы, расположив их в порядке, соответствующем цифрам.	АББГ 0										
<table border="1"> <thead> <tr> <th>Город</th><th>Субъект Российской Федерации</th></tr> </thead> <tbody> <tr> <td>1) Ухта</td><td>А) Республика Башкортостан</td></tr> <tr> <td>2) Бодайбо</td><td>Б) Тюменская область</td></tr> <tr> <td>3) Туймазы</td><td>В) Иркутская область</td></tr> <tr> <td>4) Ишим</td><td>Г) Республика Коми</td></tr> </tbody> </table>	Город	Субъект Российской Федерации	1) Ухта	А) Республика Башкортостан	2) Бодайбо	Б) Тюменская область	3) Туймазы	В) Иркутская область	4) Ишим	Г) Республика Коми	
Город	Субъект Российской Федерации										
1) Ухта	А) Республика Башкортостан										
2) Бодайбо	Б) Тюменская область										
3) Туймазы	В) Иркутская область										
4) Ишим	Г) Республика Коми										
13. Выберите правильный вариант ответа. В этих городах России самая большая доля иностранных мигрантов в населении города: А) Иваново и Ульяновск Б) Самара и Нижний Новгород В) Грозный и Махачкала	В 0										



9-5

Муниципальный район	Цифра на картосхеме	A B B Г 0
A) Кулундинский	1	
Б) Зональный	2	
В) Баевский	3	
Г) Родинский	4	