

Шифр 11-6

Муниципальное бюджетное
общеобразовательное учреждение
г. Заринск

Всероссийская олимпиада школьников по географии Алтайский край

Муниципальный этап, 2020-2021 г.г.

11 класс

Общее время для выполнения заданий муниципального этапа
Олимпиады составляет около 3 астрономических часа.
Сумма баллов за все правильные ответы теоретического раунда – 50
баллов.
Сумма баллов за все правильные ответы тестового раунда – 20
баллов.
Общая сумма баллов за 2 раунда – 70 баллов.
Использование любых справочных материалов и карт не
допускается.
Для ответов на вопросы по карте можно пользоваться линейкой,
транспортиром, простым калькулятором.
Ответы на вопросы теоретического и тестового раундов
записываются на листах для ответа и сдаются дежурному по
аудитории.

ФАМИЛИЯ	Тырышкина
ИМЯ	Екатерина
ОТЧЕСТВО	Юрьевна
КЛАСС	11 класс
ШКОЛА	МБОУ СОШ № 2
КРАЙ, РАЙОН, ГОРОД / ПОСЕЛОК /СЕЛО	Алтайский край,

ТЕОРЕТИЧЕСКИЙ РАУНД

ФИО ЧЛЕНОВ ЖЮРИ:

ТЕСТОВЫЙ РАУНД

ОБЩЕЕ КОЛИЧЕСТВО БАЛЛОВ

ТЕОРЕТИЧЕСКИЙ РАУНД II КЛАСС

Задача 1. Запишите в таблицу страны, где большая часть населения относится к определенной конфессии.
Для выполнения задания воспользуйтесь предложенным списком стран.

Список стран: Иран, Кипр, Пакистан, Греция, Болгария, Сомали, Ирландия, Польша, Российская Федерация, Монголия, Таиланд, Филиппины, Шри-Ланка, Мьянма, Бахрейн, Бразилия, Сербия, Узбекистан, Армения, Камбоджа, Мавритания, Мальта, Румыния, Венгрия, Австрия.

Православие	Католицизм	Ислам или мусульманство	Буддизм
Болгария, Российская Федерация, Сербия, Армения,	Кипр, Греция, Ирландия, Польша, Филиппины, Мьянма, Бразилия, Мавритания, Мальта, Румыния, Венгрия, Австрия	Иран, Тахистан, Бахрейн, Узбекистан, Шри-Ланка, Камбоджа	Монголия, Таиланд, Сомали

Задача 2. Географические названия изменяются. Особенно часто меняются названия государств.

Заполните таблицу, указав современное и старое название государства, а также действующую столицу государства (в тех местах таблицы, где есть пробелы).

Современное название государства	Старое название государства	Действующая столица государства
Мозамбик	Золотой Берег	
Таиланд	Абиссиния	
Иран		Бахрам

Имя	Перцовый берег
-----	----------------

Задача 3. Прочитайте внимательно текст. В указанных скобках запишите правильный ответ.

- А) Назовите страну (Казахстан), которая омывается водами крупнейшего озера мира (Каспийское море-озеро).
- Б) Назовите другое озеро (Аральское море-озеро), располагающееся на границе с южным соседним государством (Узбекистан). Это озеро значительно сократилось по площади во второй половине XX века в результате хозяйственной деятельности.
- В) Ещё одно озеро (Балхаш), известно тем, что одна его половина пресная, а другая – солёная.
- Г) По запасам этого стратегического природного ресурса (нефть) стране мало равных в мире, но по международным соглашениям обогащением и переработкой вместе с местными производителями занимаются предприятия другого государства (Российская Федерация).
- Д) В центре этой страны располагается известный в мире космодром (байконур).
- Е) Столица страны (Нур-Султан) не является крупнейшим городом по численности населения по сравнению с (Алматы).

9-44

скальное образование (—) в центре этого государства.

Задача 5. В последние 25 лет в Российской Федерации отчетливо проявляется следующая миграционная тенденция. Наибольшая миграция населения после Москвы и Московской области наблюдается из большинства регионов России (особенно из северных и восточных) в Санкт-Петербург и его агломерацию. Напишите 10 основных причин, которые способствуют данному перемещению населения.

№
п/п

1.	Низкий уровень жизни в регионах (по сравнению с Санкт-Петербургом и его агломерацией)
2.	Низкий уровень мерзкостей в регионах (по сравнению с Санкт-Петербургом и его агломерацией)

3. Более качественное образование (Высшее и среднее) можно получить в Санкт-Петербург и его анд-строполь.
4. Более высокая заработная плата сосредоточена в Санкт-Петербурге и его агломерации (по сравнению с регионами РФ).
5. В регионах с низким уровнем жизни, иммиграция из Санкт-Петербурга и его агломерации.

6. Проблеми екології в регіонах рр. Закарпатський воєводства (В Карпатському національному парку).

7. В Санкт-Петербурге и по всей России менее суровыми
холодными зимами, по сравнению с северными, восточными
8. научная сфера в регионах ^{по}развита лучше, поэтому
научными работниками предпочтительнее иммигрировать в Санкт-
9. Петербург (Азия сфера) в регионах РФ не развита, поэтому
можно предпочтительнее иммигрировать в Санкт-Петербург, где
ТТ-сфера развита лучше.

10. Прямые компании (вместит, специализация в индустрии, каталоги и олимпиады, поэтому моря сириньтас
интересоват туде, чтобы получить работу, роилин
с высокой заработной платой.



ТЕСТОВЫЙ РАУНД 11 КЛАСС



Вопрос	Ответ										
<p>1. Выберите одну группу стран мира, где самая высокая плотность населения.</p> <p>А) Таджикистан и Турция Б) Бельгия и Великобритания В) Румыния и Черногория Г) Бразилия и Латвия</p>	А										
<p>2. Выберите вариант ответа, где в одной из этих агломераций плотность населения наибольшая.</p> <p>А) Сан-Паулу Б) Мумбаи В) Шанхай Г) Нью-Йорк</p>	В										
<p>3. Выберите правильный вариант ответа.</p> <p>Этот город образует сейчас самую наименьшую по численности населения агломерацию из представленных в этом списке.</p> <p>А) Лондон Б) Жакарта В) Карачи Г) Манила</p>	В										
<p>4. Как известно, в отдельных странах мира, их столицы несколько раз были перенесены из одного города в другой или переименованы.</p> <p>Установите соответствие между бывшими и современными столицами стран мира из предложенного списка.</p> <p>Запишите в ответ буквы, расположив их в порядке, соответствующем цифрам.</p> <table border="1"> <thead> <tr> <th>Бывшая столица</th><th>Современная столица</th></tr> </thead> <tbody> <tr> <td>1) Салвадор</td><td>А) Варшава</td></tr> <tr> <td>2) Тронхейм</td><td>Б) Осло</td></tr> <tr> <td>3) Краков</td><td>В) Бразилиа</td></tr> <tr> <td>4) Астана</td><td>Г) Нур-Султан</td></tr> </tbody> </table>	Бывшая столица	Современная столица	1) Салвадор	А) Варшава	2) Тронхейм	Б) Осло	3) Краков	В) Бразилиа	4) Астана	Г) Нур-Султан	В Б А Г
Бывшая столица	Современная столица										
1) Салвадор	А) Варшава										
2) Тронхейм	Б) Осло										
3) Краков	В) Бразилиа										
4) Астана	Г) Нур-Султан										

<p>5. Рассмотрите внимательно рисунок. Для какой страны характерна представленная половозрастная пирамида?</p>	<p>А) Белоруссия Б) Кения В) Аргентина Г) Франция</p>	Б
<p>6. Какое из утверждений «Вид ресурса – Месторождение – Страна» является верным?</p> <p>А) железная руда – Керченское – Российская Федерация Б) природный газ – Прадхо-Бей – Канада В) железная руда – Экибастузский бассейн – Казахстан Г) медная руда – Чукикамата – Китай</p>	Б	Б
<p>7. Производство этого текстильного волокна в последние годы быстро растет. Упаковка из него</p>		В

<p>получает все большую популярность в пищевой промышленности и торговле как более экологичная альтернатива полиэтиленовым пакетам.</p> <p>Выберите верный вариант сочетания «Сельскохозяйственная культура для производства текстильного волокна – Крупнейший производитель (на уровне страны)».</p> <p>А) джут – Индия Б) хлопчатник – Китай В) лён – Российская Федерация Г) кенаф – Индия</p>	
<p>8. В каком из вариантов верно указано сочетание «Машиностроительная компания – Страна – Основные виды продукции»?</p> <p>А) General Electric – Соединённые Штаты Америки – железнодорожные локомотивы, энергетические установки, авиационные двигатели, медицинское оборудование, бытовая и осветительная техника Б) Toyota Motor Corporation – Япония – автомобили, энергетические установки, газовые турбины, авиационные двигатели, медицинское оборудование В) Daimler AG – Франция – легковые и грузовые автомобили Г) Siemens AG – Германия – медицинское оборудование, бытовая и осветительная техника, легковые и грузовые автомобили</p>	А
<p>9. Выберите правильный ответ.</p> <p>«Эта страна занимает первое место в мировом производстве электроэнергии. В структуре производства электроэнергии доля ТЭС составляет – 68,9%, ГЭС – 26,4%, АЭС и других источников – 4,7%».</p> <p>А) Российская Федерация</p>	А

<p>Б) Норвегия В) Япония Г) Китай</p>	
<p>10. Выберите группу стран, для которой характерна наибольшая плотность роботов в производстве (измеряется, например, как число роботов на 10 тысяч сотрудников).</p> <p>А) Германия (ФРГ) и Китай Б) Великобритания и Франция В) Республика Корея и Сингапур Г) Соединённые Штаты Америки и Япония</p>	Г
<p>11. Выберите группу стран, где существенную часть экспортных доходов получают от продажи кофе на экспорт.</p> <p>А) Китай и Бангладеш Б) Вьетнам и Колумбия В) Пакистан и Австралия Г) Аргентина и Саудовская Аравия</p>	Б
<p>12. Выберите группу стран, где самый высокий ВВП на душу населения.</p> <p>А) Российская Федерация и Италия Б) Австралия и Объединённые Арабские Эмираты В) Саудовская Аравия и Иран Г) Испания и Республика Корея</p>	Б
<p>13. В каком из указанных вариантов сочетание «Регион мира – Экологическая проблема» является верным?</p> <p>А) Северная Европа – выпадение кислотных осадков, нефтяное загрязнение акватории морей Б) Южная Азия – разрушение берегов вследствие подтопления и поднятия уровня моря В) Восточная Африка – промышленно-городское загрязнение атмосферы, деградация пастбищ Г) Австралия – обледенение, выпадение кислотных</p>	В

дождей			
14. В каком из указанных вариантов сочетание «Город – Достопримечательность» является верным?		А	
А) Барселона – Саграда Фамилия Б) Нью-Дели – Тадж-Махал В) Тель-Авив – Стена Плача Г) Вена – Елисейские поля			
15. Установите соответствие между изображением герба страны и ее названием (географическим наименованием). Запишите в ответ буквы, расположив их в порядке, соответствующем цифрам.		1-Б 2-Г 3-В 4-А	
Номер	Герб страны	Название (географическое наименование) страны	
1		А) Мексика	
2		Б) Антигуа и Барбуда	

3		В) Непал	<div>1-Б</div> <div>2-А</div> <div>3-Г</div> <div>4-В</div>								
4		Г) Гаити									
<p>16. Всё большую популярность в настоящее время получает экологический туризм. Установите соответствие между направлением экологического туризма и регионами мира, в которых оно развивается. Запишите в ответ буквы, расположив их в порядке, соответствующем цифрам.</p> <table border="1"> <tr> <td>Направление экологического туризма</td> <td>Регионы мира</td> </tr> <tr> <td>1) «бёрдотчинг»</td> <td>А) тропа инков в Перу</td> </tr> <tr> <td>2) треккинг</td> <td>Б) дождевые леса Коста-Рика</td> </tr> <tr> <td>3) туры по внутренним водам</td> <td>В) путешествие верхом по диким горам Сьерра-Невада</td> </tr> </table>				Направление экологического туризма	Регионы мира	1) «бёрдотчинг»	А) тропа инков в Перу	2) треккинг	Б) дождевые леса Коста-Рика	3) туры по внутренним водам	В) путешествие верхом по диким горам Сьерра-Невада
Направление экологического туризма	Регионы мира										
1) «бёрдотчинг»	А) тропа инков в Перу										
2) треккинг	Б) дождевые леса Коста-Рика										
3) туры по внутренним водам	В) путешествие верхом по диким горам Сьерра-Невада										

<p>В) По территории района протекают более 20 рек. Наиболее крупные из них – Бия, Неня. Основное направление экономики – сельское хозяйство. На территории района расположен угольный разрез. В районе проживают представители различных национальностей, где большинство составляют – русские, кумандинцы, немцы, украинцы, мордва, татары.</p>	<p>3</p>	
<p>Г) Этот район ранее назывался Старобардинским. Его территория расположена в междуречье Бии и Катунь в пределах холмисто-увалистой равнины. В районе проживают представители различных национальностей, где большинство составляют – русские, кумандинцы, немцы, украинцы, белорусы.</p>	<p>4</p>	